



راه عددی





مداومت را بردار و از بالای این جدول، عددهایی را که به ترتیب بر سه، چهار و پنج بخش پذیرند پیدا کن. همراه با این کار، خانه به خانه حرکت کن تا به انتهای جدول برسی. مثال: عددهای ۶۶ به ۴، ۳، ۴۸ به ۴ و ۶۵ به ۵ بخش پذیرند.



برای حل این معما ششمنی‌ها به کوچک ترها کمک کنند.


کدام مکعب؟

وقتی این مکعب باز شده را بچسبانیم، کدام شکل به دست می آید؟



مسابقه دایره‌های خالی

عدد داخل هر دایره‌ی خالی حاصل جمع دو عدد دایره‌های پایین آن است. هر کس عدد بالاترین دایره‌ی خالی را زودتر پیدا کند، برنده است!... شاید راه‌های ساده‌تری هم وجود داشته باشد.



چیستان

• پریسا برازنده

۱ من می‌روم، او می‌آید!

۲ شب نگاه کردم زیاد بود،
صبح نگاه کردم،
اصلاً نبود!

۳ از کوه انداختم، مُرد،
تو آب انداختم، مُرد.

پاسخ سرگرمی‌ها در صفحه‌ی ۳۱

از همه چیز از همه جا

- ✓ آیا می‌دانید کرگدن با ۴ تن وزن می‌تواند ۴۵ کیلومتر در ساعت بدود؟
- ✓ آیا می‌دانید بدن انسان از ۶۰۰ ماهیچه تشکیل شده است!
- ✓ آیا می‌دانید مار پیتون ۱۱ متر درازا دارد؟
- ✓ آیا می‌دانید دایناسورهای گول‌پیکر که قرن‌ها پیش زندگی می‌کردند، تا ۲۵ متر طول داشتند؟



خمین