

# سرری

حسین شاهرودی

## جدول اعداد

	+		×		≡	۱۲
+		+		×	≡	
۴	+		-		≡	۶
÷		+		+	≡	
	×	۸	÷		≡	۴
≡		≡		≡		
۳		۱۸		۲۰		

خانه‌های خالی را با عددهای مناسب پر کنید. طوری که جواب‌های افقی و عمودی درست باشد.

## بازی جزیره‌ها

هر دایره، یک جزیره است. هر جزیره را با خط‌های افقی — یا عمودی | به جزیره‌های دیگر وصل کنید.

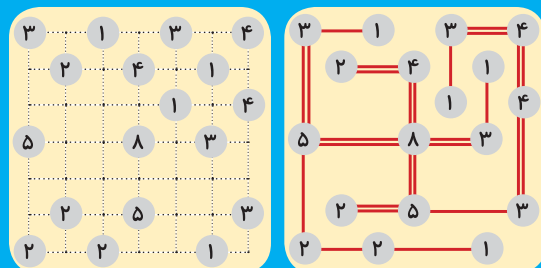

تعداد خط‌های هر جزیره باید با شماره‌ی جزیره مساوی باشد.

بین هر دو جزیره، نباید بیشتر از دو خط باشد.

خط‌ها نباید از روی جزیره یا از روی خط دیگر عبور کند.

خط‌ها باید مستقیم باشند.

حتماً به مثال توجه کنید!




مثال

جواب مثال

## باد در بادبان

سیدرسول میردامادی



## چیستان = چیست آن؟!

طاهره خردور

- ۱ این سر کوه، اره، آن سر کوه، اره، میان کوه، گوشت بره!
- ۲ آن کدام تاریکی است که همیشه در میان روشایی است؟
- ۳ آن چیست که خودش آب، دشمنش آب؟


## پاکت بسازیم

😊 روی یک مقوا  
به اندازه‌ی الگو،  
شکل پاکت را بکشید.

😊 خط‌های کامل را  
با قیچی ببرید.

😊 از روی خط‌چین‌ها تا بزنید.

😊 لبه‌های داخل پاکت  
را با چسب مایع به هم بچسبانید.



پاسخ سرگرمی‌ها در صفحه‌ی ۲۷