

سرری



حسین شاهوردی

	+		×	۸	≡	۹۹
+		+		×	≡	
۸	+		-		≡	۶
÷		+		+	≡	
	×	۴	÷		≡	۱۴
≡		≡		≡		
۲		۱۰		۲۹		

جدول اعداد

خانه‌های خالی را با عددهای مناسب پر کنید. طوری که جواب‌های افقی و عمودی درست باشد.

بازی جزیره‌ها

هر دایره، یک جزیره است. هر جزیره را با خط‌های افقی — یا عمودی | به جزیره‌های دیگر وصل کنید.



تعداد خط‌های هر جزیره باید با شماره‌ی جزیره مساوی باشد.

بین هر دو جزیره، نباید بیشتر از دو خط باشد.

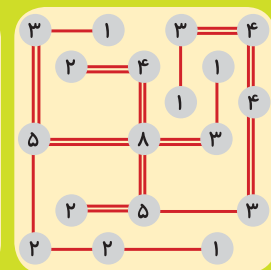
خط‌ها نباید از روی جزیره یا از روی خط دیگر عبور کند.

خط‌ها باید مستقیم باشند.

حتماً به مثال توجه کنید!




مثال



جواب مثال

راهروها

سیدرسول میردامادی



پاکت بسازیم

روی یک مقوّا
به اندازه‌ی الگو،
شکل پاکت را بکشید.

خط‌های کامل را
باقیچی ببرید.

از روی خط‌چین‌ها
تا بزنید.

از دایره‌ی بالا،
برای بستن
در پاکت
استفاده کنید.



طاهره خردور

چیستان = چیست آن؟!

۱ آن چیست که همه‌ی دیدنی‌ها را می‌بیند، اما خودش را نمی‌بیند.

۲ بالا می‌رود، پر است، پایین می‌آید خالی است.

۳ سفید است؛ ولی برف نیست. ریشه دارد؛ اما درخت نیست!

پاسخ سرگرمی‌ها در صفحه‌ی ۲۵